



المدرسة الإعدادية فرحات حشاد	فرض مراقبة عدد علوم الحياة و الأرض	السنة الدراسية: 2009/2008
الإسم و اللقب: .....		7 أساسي 2. الرقم: .....

**تمرين عدد**



عرّف المصطلحات التالية

عاريات البذور:

.....  
جهاز خضري: .....

**تمرين عدد**

تبرز الوثائق التالية نباتين من مغطاة البذور. أكمل تعمير الجدول بما يناسب.

		
		عدد الأوراق
		نوع الورقة
		توضع الأوراق على الساق

**تمرين عدد**

تختلف النباتات الزهرية في سيقانها و أوراقها و جذورها

1- أذكر كل نوع من الجذور التالية



.....2



.....1

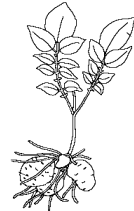
.....3

2- أذكر نوع كل هذه السيقان



.....1

.....2



3- أذكر نوع كل ورقة معتمدا في ذلك الجدول







			
			حافة النصل
			توضع العروق داخل النصل

### تمرين ع-III-د

تمثل الوثيقة التالية نبتتين زهريتين. صف هذين النبتتين معتمدا الجدول

النبتة ب	النبتة أ	
		
..... ..... .....	..... ..... .....	الشعبة مع التعليل
..... ..... .....	..... ..... .....	الصف مع التعليل

