



الاشكال الاسطوانية

التمرين عدد 1:

هذا رسم منظوري ثلاثي الأبعاد لعمود جاف (1,5V) من الحجم الكبير (مبسط).
1) أتمم رسم هذا العمود الجاف بالمساقط التالية: العلوي - اليميني واليساري.
السلم 1:1



COLLEGE.MOURAJAA.COM



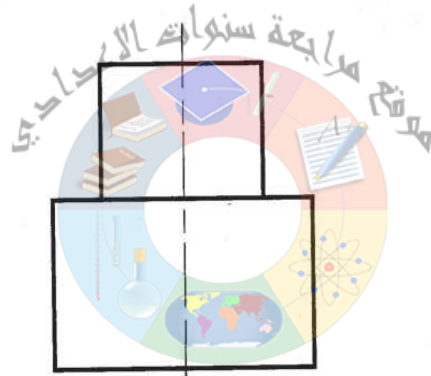



التمرين عدد 2:

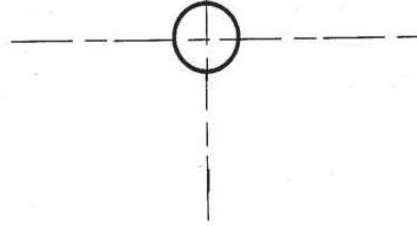
(1) أتمم رسم هذه القطعة على المساقط
التالية الرأسي – اليساري والعلوي.

سلم 1:1

(2) رقم الثقب النافذ



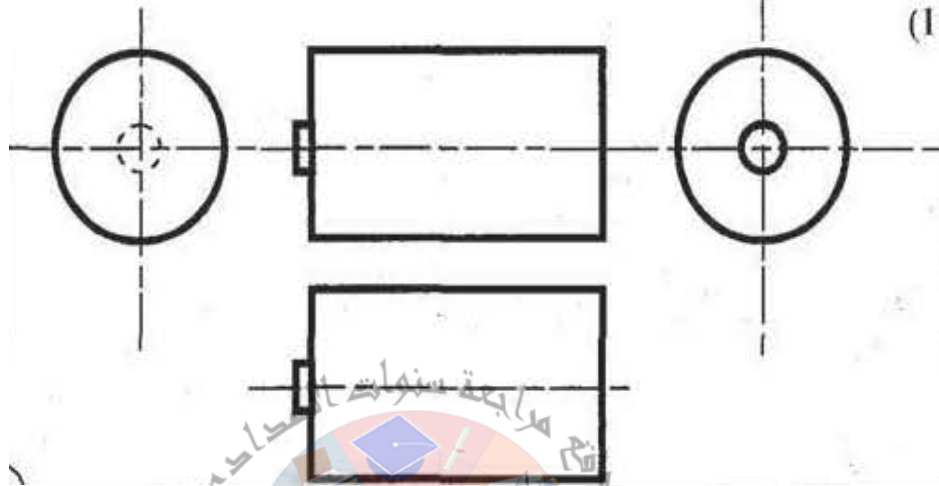
COLLEGE.MOURAJAA.COM





CORRECTION

التمرين عدد 1:



التمرين عدد 2:
(1 و 2)

