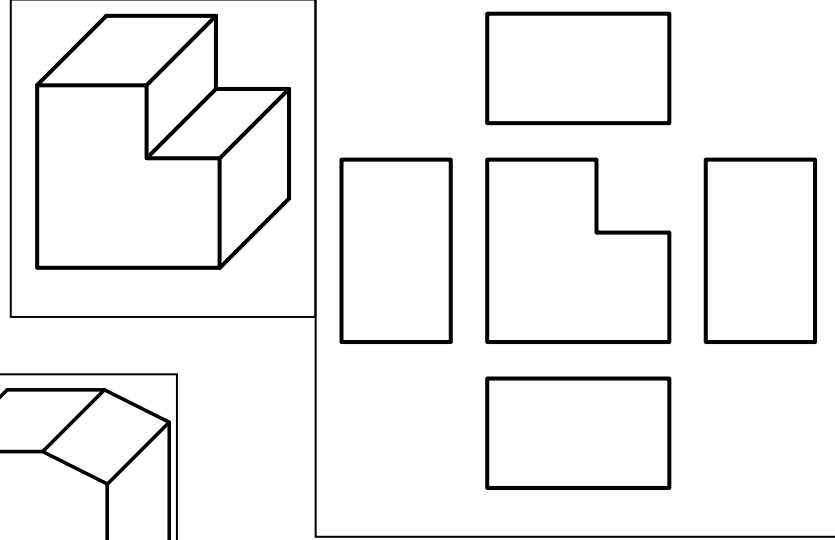




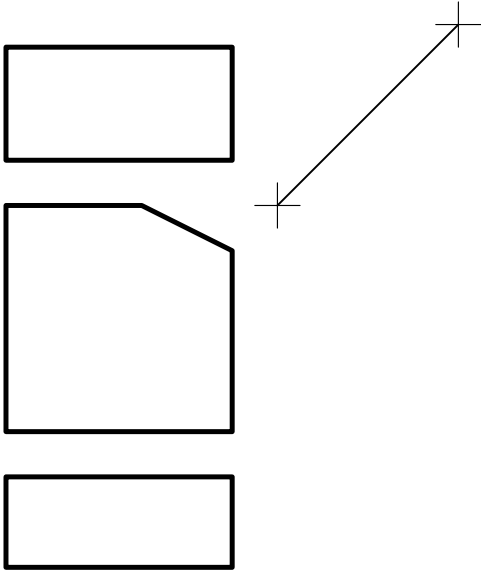
1. الأنشطة التطبيقية:

اتم رسم المساقط للقطع التالية معتمدا على الرسم المنظوري و المسقط الرأسي.

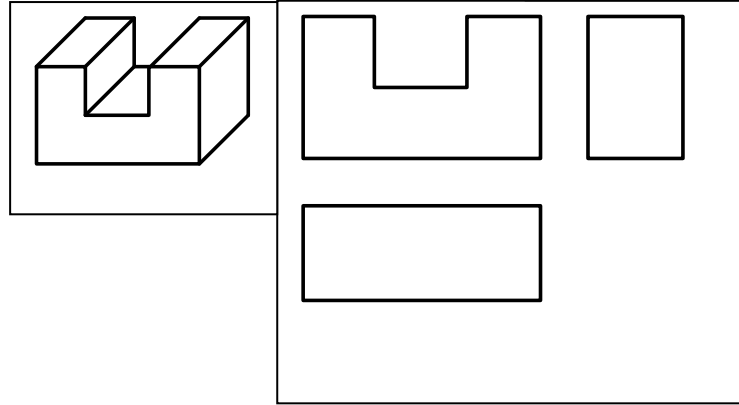
القطعة رقم 1



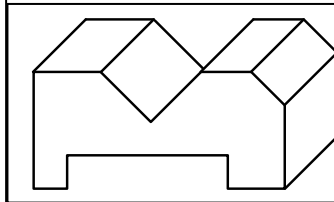
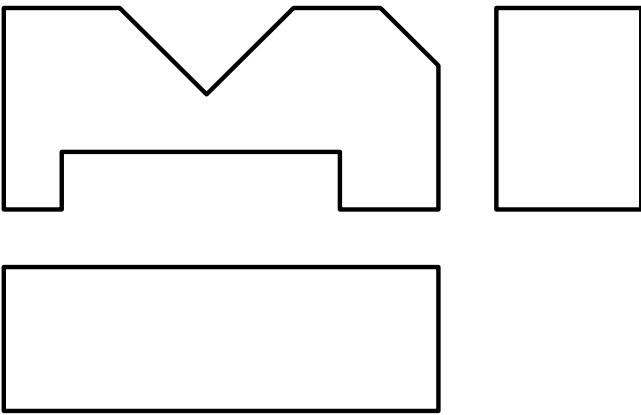
القطعة رقم 2



القطعة رقم 3



القطعة رقم 4



2. الاستنتاجات

- المساقط التي تحيط بالمسقط الراسي لها نفس السُمك
- المسقط الراسي و اليميني و اليساري و الخلفي ترسم على نفس الخط الأفقي و لها نفس الارتفاع
- المسقط الراسي و العلوي و السفلي ترسم على نفس الخط العمودي و لها نفس ... الطول.
- الخط السُميك المستمر لا يقطع ابدا خط سُميك مستمر.
- الخط السُميك المستمر لا يتوقف ابدا عند خط رقيق متقطع.