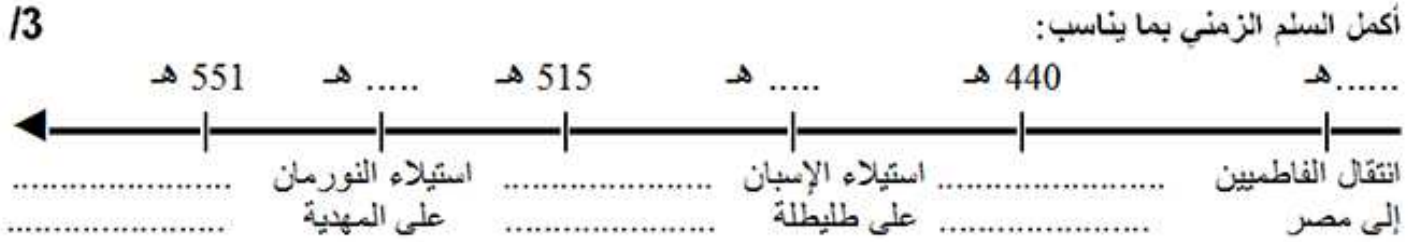


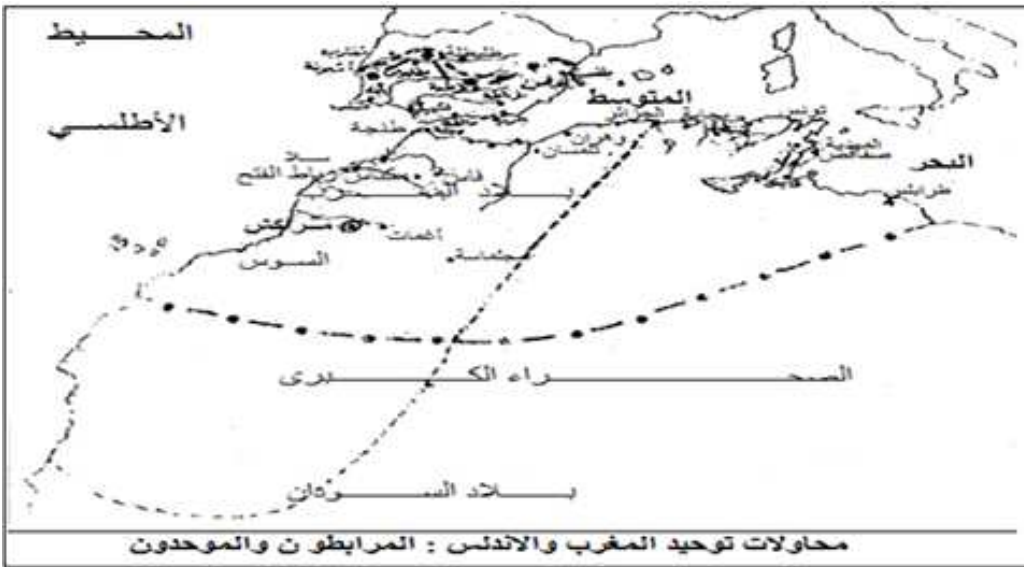
## تمارين الدرس 1: محاولات توحيد بلاد المغرب والأندلس

### أمثلة من الأسئلة الموضوعية

#### المثال الأول:



#### المثال الثاني:



لون الخريطة ومفتاحها وضع في إطار المدينة التي أسسها المرابطون:

14

المفتاح :

الدولة المرابطية

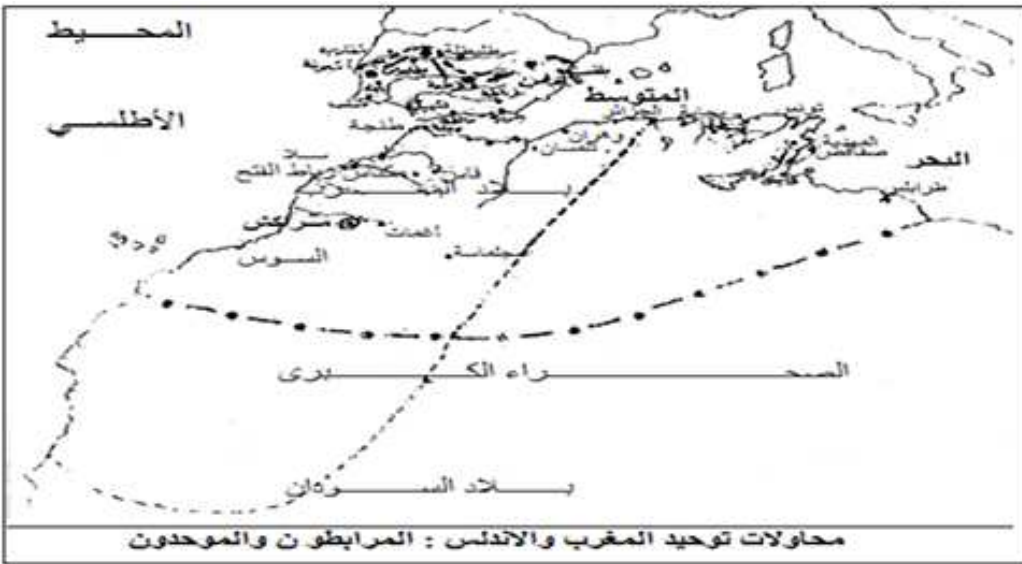
#### المثال الثالث:

### اربط الحدث بتاريخ وقوعه:

- 422 هـ سقوط الخلافة الأموية بالأندلس
- 480 هـ ظهور الدعوة الموحدية
- 515 هـ تولي يوسف بن تاشفين الحكم
- 540 هـ استيلاء الموحدين على فاس

#### المثال الرابع:





لون الخريطة حسب  
مفتاحها وضع في  
إطار المنطقة التي  
تركزت فيها الدعوة  
الموحدية : 14

المفتاح :

الدولة الموحدية

### المثال الخامس:

العنوان: التهديدات الخارجية لمنطقة المغرب والأندلس خلال ق 5هـ

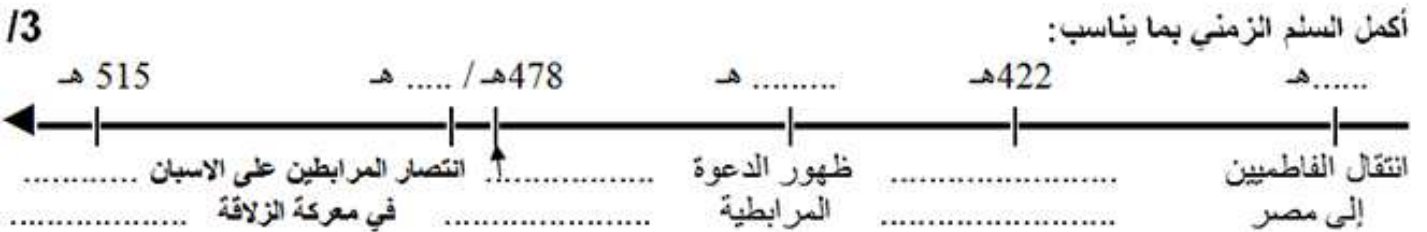


أكمل مفتاح الخريطة:

المفتاح:

- ..... ← تهديدات
- ..... ← تهديدات
- ..... ← تهديدات

### المثال السادس:



## أمثلة من الأسئلة التأليفية

### المثال الأول:

الموضوع:

عرف من خلال فقرة بالدعوة الموحدية وظروف نشأتها وبين دور الدولة التي أنشأتها في توحيد المغرب والأندلس. استعن بهذه التوصيات لإنجاز الفقرة.

1. في المقدمة أذكر الإطار الزمني العام لمحاولتي توحيد المغرب والأندلس ثم اطرِح الإشكالية . 1/5
2. في الجوهر عرف الدعوة الموحدية وظروف نشأتها ثم بين دور الدولة الموحدية في توحيد المغرب والأندلس . 1/9
3. في الخاتمة استنتاج وفتح الأفق بخصوص محاولة التوحيد الثانية. 1/1.5

### المثال الثاني:



قبيل من صنهاجة يعرفون ببني لمتونة ضوا عن رحالة في الصحراء ... وهذه القبائل هي التي قامت بعد الأربعين والأربعمئة بدعوة الحق ... وهم على السنة متمسكون بمذهب مالك بن أنس... وكان الذي نهج ذلك فيهم ودعا الناس إلى الرباط ودعوة الحق عبد الله بن ياسين ...

أبو عبيد البكري: المغرب في نكر بلاد إفريقية والمغرب ص 138 – 139

أبو عبيد البكري: رحالة وجغرافي أندلسي توفي سنة 487 هـ

أجب على هذه الأسئلة بالاعتماد على الوثيقة ومستعينا بما درسته :

- 1- قدم نوع الوثيقة وموضوعها ومؤلفها: /2
- 2- اذكر الظروف السياسية العامة بمنطقتي المغرب والأندلس عند ظهور الدعوة المرابطية: /3
- 3- اعتمد على معطيات دقيقة تستدل بها من الوثيقة للتعريف بالدعوة المرابطية : /6

### المثال الثالث:

... ولما كانت سنة 515 هـ قام بسوس ( بلاد السوس ) محمد بن عبد الله بن تومرت في صورة أمر بالمعروف ناه عن المنكر ... ولما كانت سنة 517 هـ جهز جيشا عظيما من المصامدة ... وقال لهم اقصدا هؤلاء المارقين المبدلين الذين تسموا بالمرابطين وأمر على الجيش عبد المؤمن بن علي ...

عبد الواحد المراكشي: المعجب في تلخيص أخبار المغرب ص 178 – 192

عبد الواحد المراكشي: مؤرخ مغربي عاش في العهد الموحد

أجب عن الأسئلة بالاعتماد على الوثيقة ومستعينا بما درسته:

1. قدم نوع الوثيقة وموضوعها ومؤلفها : /2
2. اذكر الظروف التي استغلها الموحدون لنشر دعوتهم: /3
3. اعتمد على معطيات دقيقة تستدل بها من الوثيقة للتعريف بالدعوة الموحدية : /6

### المثال الرابع:

الموضوع:

عرف من خلال فقرة بالدعوة المرابطية وظروف نشأتها وبين دور الدولة التي أنشأتها في توحيد المغرب والأندلس.

استعن بهذه التوصيات لإنجاز الفقرة.

1. في المقدمة أذكر الإطار الزمني العام لمحاولتي توحيد المغرب والأندلس ثم اطرح الإشكالية . /1.5
2. في الجوهر عرف الدعوة المرابطية وظروف نشأتها ثم بين دور الدولة المرابطية في توحيد المغرب والأندلس. /9
3. في الخاتمة استنتاج وفتح الأفاق بخصوص محاولة التوحيد الثانية. /1.5



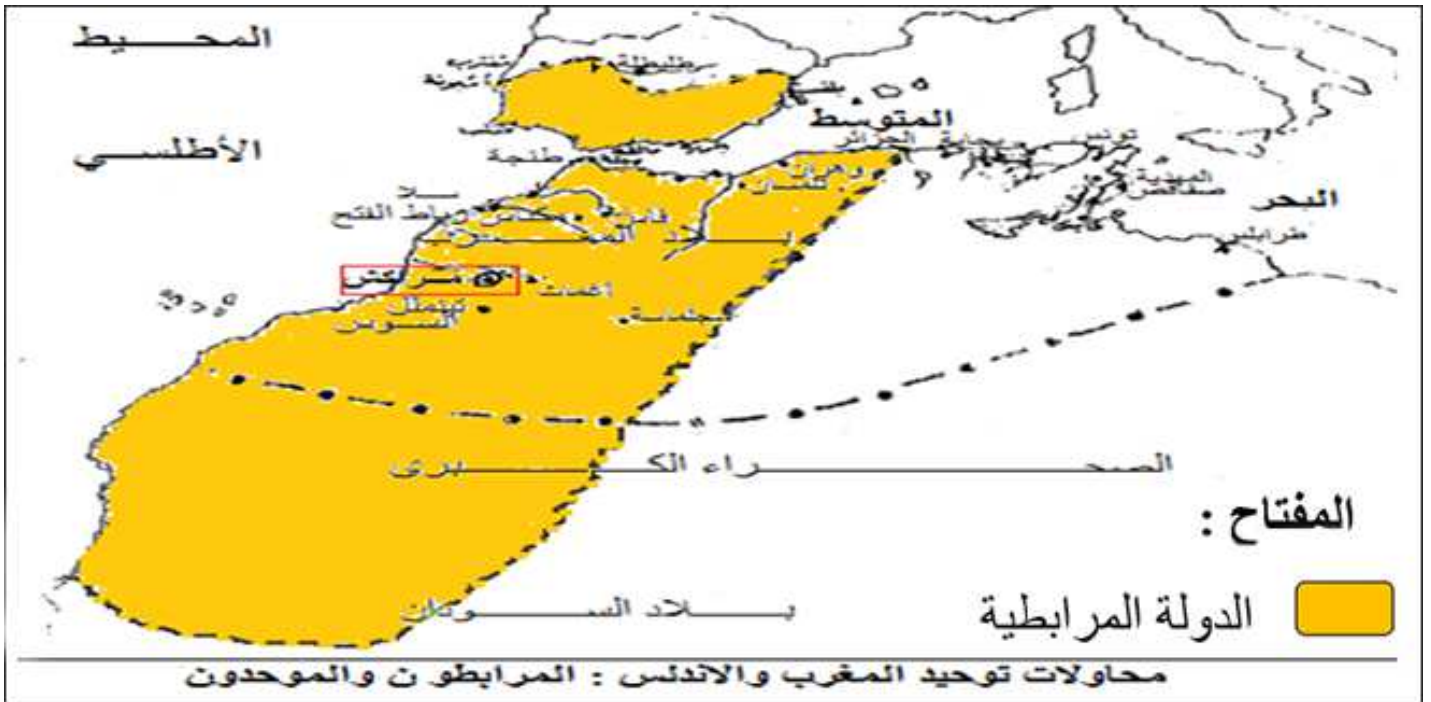
## إصلاح تمارين الدرس 1: محاولات توحيد بلاد المغرب والأندلس

### إصلاح الأسئلة الموضوعية

#### إصلاح المثال الأول:



#### إصلاح المثال الثاني:



#### إصلاح المثال الثالث:

- سقوط الخلافة الأموية بالأندلس ● 422 هـ
- ظهور الدعوة الموحدية ● 480 هـ
- تولي يوسف بن تاشفين الحكم ● 515 هـ
- استيلاء الموحدين على فاس ● 540 هـ

#### إصلاح المثال الرابع:





## 1. التمرين الأول:

إثر انتقال الفاطميين إلى مصر سنة 362 هـ وسقوط الخلافة الأموية بالأندلس سنة 422 هـ عانت منطقتا المغرب والأندلس من تفكك سياسي حاد وفي هفي هذه الظروف ظهرت محاولتان لتوحيد المنطقتين. منها المحاولة الموحدية. فما هي ظروف نشأة الدعوة الموحدية؟ وما هو الدور الذي لعبته الدولة الموحدية في توحيد المغرب والأندلس؟

1.5/

## 2. التمرين الثاني:

خلال فترة حكم علي بن يوسف بن تاشفين (500 – 537 هـ) ضعفت الدولة المرابطية فساعد ذلك على ظهور الدعوة الموحدية حوالي 515 هـ. علي يد محمد بن تومرت الملقب بالمهدي في بلاد السوس جنوب المغرب الأقصى وخاصة تينمل حيث تجمع أنصارها من قبيلة مصمودة وركزوا دعوتهم على العودة بالإسلام إلى جذوره ونبذ التمذهب. ومنذ 517 هـ شرع ابن تومرت في بناء الدولة بتكوين جيش وضعه تحت قيادة عبد المؤمن بن علي واعتمد عليه لمهاجمة مراكش سنة 524 هـ لكنه لم ينجح في الاستيلاء عليها وفي نفس هذه السنة توفي ابن تومرت فتحمل عبد المؤمن ابن علي مسؤولية انشاء الدولة الموحدية فغير خطة مواجهة المرابطين بأن استولى على أطراف الدولة مثل تلمسان ووهران سنة 539 هـ وفاس في السنة الموالية ثم استغل فرصة الراج بين المرابطين للاستيلاء على مراكش سنة 541 هـ وفي نفس السنة تدخل الموحدون في الأندلس بالاستيلاء على أشبيليا وتواصل هذا التدخل إلى سنة 551 هـ بالاستيلاء على غرناطة وفي الأثناء وتحديدا سنة 547 هـ تمكنوا من القضاء على إمارة بني حماد أما إفريقية فكانت تعاني من الاحتلال النورماني منذ سنة 543 هـ فاستجد أهلها بالموحدين الذين تدخلوا بقيادة عبد المؤمن بن علي حيث تمت محاصرتهم في المهديّة إلى أن قرروا المغادرة في اتجاه صقلية وبذلك أصبحت إفريقية تابعة للدولة الموحدية منذ سنة 555 هـ.

9/

## 3. التمرين الثالث:

لقد تمكن الموحدون بين 539 و555 هـ من توحيد كامل منطقتي المغرب والأندلس رغم صعوبة المهمة. فهل حققت التجربة التوحيدية المرابطية مثل هذا النجاح؟

1.5/

## إصلاح المثال الثاني:

### 1- التمرين الأول:

هذه الوثيقة نص قصير للمؤرخ والرحالة الأندلسي الذي عاش في القرن 5 هـ ويتعلق موضوعه بالدعوة المرابطية

12/

### 2- التمرين الثاني:

عند ظهور الدعوة المرابطية كانت منطقتا المغرب والأندلس تعانيان من التفكك السياسي إثر انتقال الفاطميين

14/

إلى مصر سنة 362 هـ وسقوط الخلافة الأموية بالأندلس سنة 422 هـ.

### 3- التمرين الثالث:

ظهرت الدعوة المرابطية في الجنوب الغربي للصحراء الكبرى ( موريطانيا حاليا) ويؤكد ذلك أبو عبيد البكري بقوله " ضواعن رحالة في الصحراء" (السطر الأول) حوالي 440 هـ " وهذه القبائل هي التي قامت بعد الأربعين والأربعمان بدعوة الحق " (نهاية السطر 1 وبداية السطر 2) وقد قامت هذه الدعوة على يد عبد الله بن ياسين " وكان الذي ..... عبد الله بن ياسين " ( نهاية السطر 2 والسطر 3) وقد ظهرت هذه الدعوة في قبيلة صنهاجة " قبيل من صنهاجة يعرفون ببني لمثونة " (السطر 1) وتبنت المذهب المالكي" وهم على السنة متمسكون بمذهب مالك بن أنس" (السطر 2).

16/

