

تمارين الدرس 2: الولايات المتحدة الأمريكية: مظاهر القوة الاقتصادية

أمثلة من الأسئلة الموضوعية

المثال الأول:

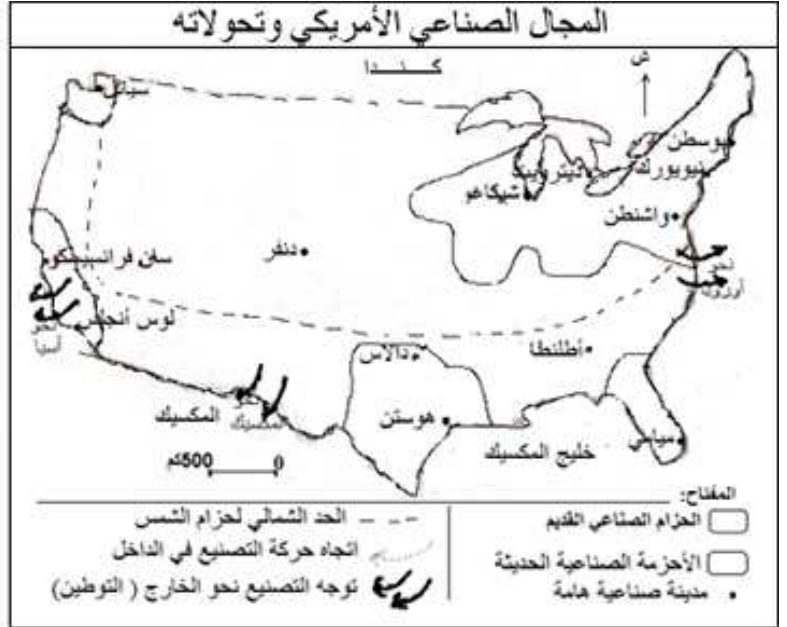
/2

عرف الشركات عبر القارية :

المثال الثاني:

1. لون المنطقة الصناعية القديمة بالأخضر
والمناطق الصناعية الحديثة بالأصفر
واتجاه حركة التصنيع في الداخل بالأحمر
وأكمل المفتاح:

/4



المثال الثالث:

/3

عرف مصطلح " الحزام " وأذكر مثالين من الأحزمة الفلاحية:

المثال الرابع:

/2

عرف مصطلح " السلاح الأخضر ":

أمثلة من الأسئلة التأليفية

المثال الأول:

تحرير فقرة (11 نقطة):

الموضوع: عرف من خلال فقرة بمظاهر قوة الفلاحة الأمريكية على مستوى سرعة تطور الإنتاج ومكانته العالمية

المثال الثاني:



استغلال وثيقة (11 نقطة):
أجب على الأسئلة بالاعتماد على الوثيقة ومستعينا بالدرس:

تطور الإنتاج الفلاحي الأمريكي بين 1974 و 2005
ومكانته العالمية سنة 2005

الرتبة العالمية	النسبة من الإنتاج العالمي	2005	1974	الإنتاج الفلاحي
1	%	282 مليون طن	118	الذرة
.....	%	85 مليون طن	33	الصوجا
2	%	5 ملايين طن	2.5	القطن (الياف)
2	-	15 مليون طن	12	الفواصر
3	% 9.3	58.7 مليون طن	48	القمح
4	-	85 مليون رأس	127	البقر
4	% 4	5.4 مليون طن	2.7	الصيد البحري

1. قدم نوع الوثيقة وموضوعها ومصدرها وأكمل الفراغات فيها: /4

2. بين من خلال معطيات دقيقة سرعة تطور الإنتاج الفلاحي الأمريكي خلال الفترة المذكورة في الوثيقة: /4

المصادر: ملامح العالم الاقتصادية 1988 و 2007 وموسوعة ويكيبيديا

3. استخرج من الوثيقة مؤشرات المكانة العالمية المتميزة للإنتاج الفلاحي الأمريكي: /3

المثال الثالث:

استغلال وثيقة (11 نقطة)
المبادلات التجارية الأمريكية سنة 2012

1480	قيمة الصادرات بالمليار دولار
159	منها الفلاحية
2266	قيمة الواردات بالمليار دولار
104	منها الفلاحية
.....	الميزان التجاري العام (عاجز / فائض)
.....	الميزان الفلاحي (عاجز / فائض)

المصدر: ملامح العالم الاقتصادية لسنتي 2013/2014

1. قدم نوع الوثيقة وموضوعها ومصدرها: /2

2. أشطب الخطأ بين قوسين في الوادي الأول وأكمل الفراغين في الوادي الثاني /3

3. بين خصائص المبادلات الخارجية الأمريكية ثم عرف ببقيّة الخدمات التي توفرها الولايات المتحدة الأمريكية للعالم ومظاهر تكاملها مع هذه المبادلات: /6

المثال الرابع:

تحرير فقرة (12 نقطة):
الموضوع: عرف من خلال فقرة بمظاهر التأثير الثقافي الأمريكي في العالم.

المثال الخامس:



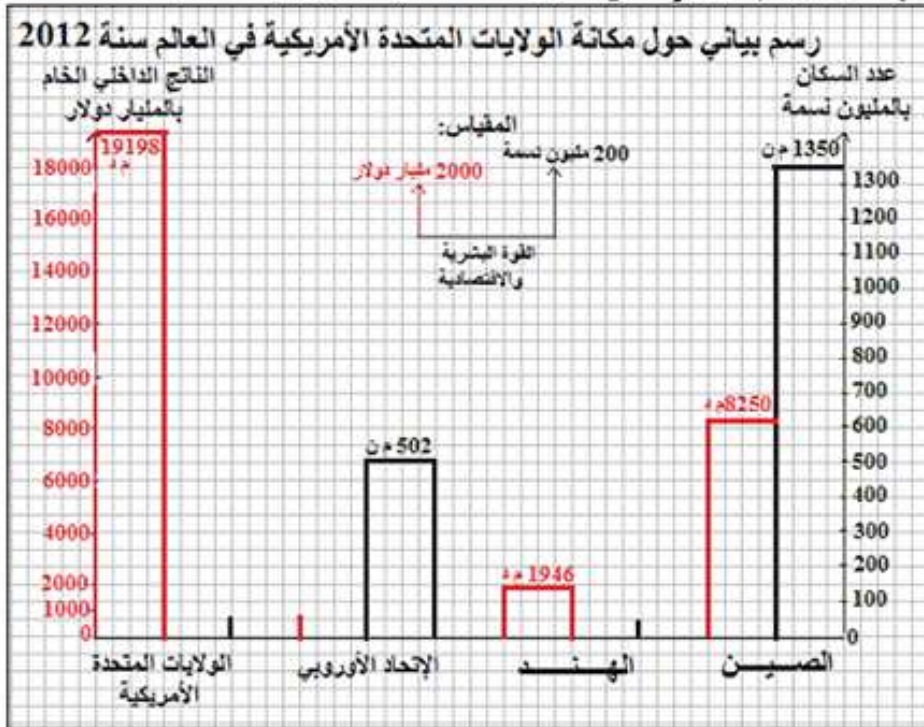
استغلال وثيقة (12 نقطة):

مكّانة الولايات المتحدة الأمريكية في العالم سنة 2012

القوة البشرية والاقتصادية	عدد سكانها (بالمليون نسمة) (ورتيبتها)	ناتجها الداخلي الخام (بالمليار دولار) (ورتيبتها)
الصين	1350 (1)	8250 (.....)
الهند	1260 (.....)	1946 (.....)
الإتحاد الأوروبي	502 (.....)	15700 (.....)
الولايات المتحدة الأمريكية	314 (.....)	19198 (.....)

المصدر: ملامح العالم الاقتصادية لسنة 2013/2014

1. قّدّم الوثيقة (نوعها موضوعها مصدرها) وأكّمل الفراغات فيها: /4
2. بين مكّانة الولايات المتحدة الأمريكية في العالم من حيث عدد السكان والناتج الداخلي الخام ماذا تستنتج؟: /4
3. استعن بمعطيات الوثيقة لإكمال الرسم البياني على شكل أعمدة حسب المقياس المحدد: /4



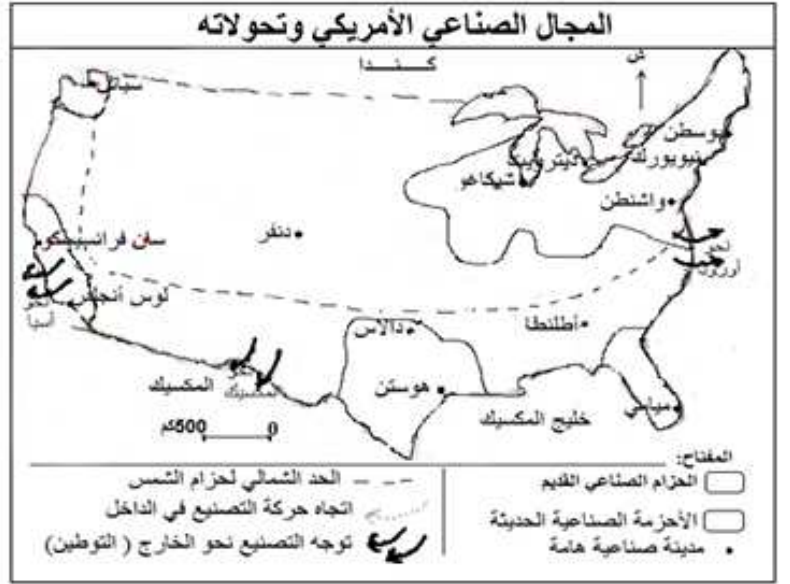
المثال السادس:

أجب على الأسئلة بالاعتماد على الوثيقة ومستعينا بالدرس:

1. قدم الوثيقة (نوعها وموضوعها): /2

2. لون المنطقة الصناعية القديمة بالأحمر
والمناطق الصناعية الحديثة بالأصفر
والحد الشمالي لحزام الشمس بالأصفر
وارسم اتجاه حركة التصنيع في الداخل بالأحمر
وأكمل المفتاح: /5

3. صف التحولات الحاصلة في المجال الصناعي
الأمريكي: /5



إصلاح تمارين الدرس 2: الولايات المتحدة الأمريكية: مظاهر القوة الاقتصادية

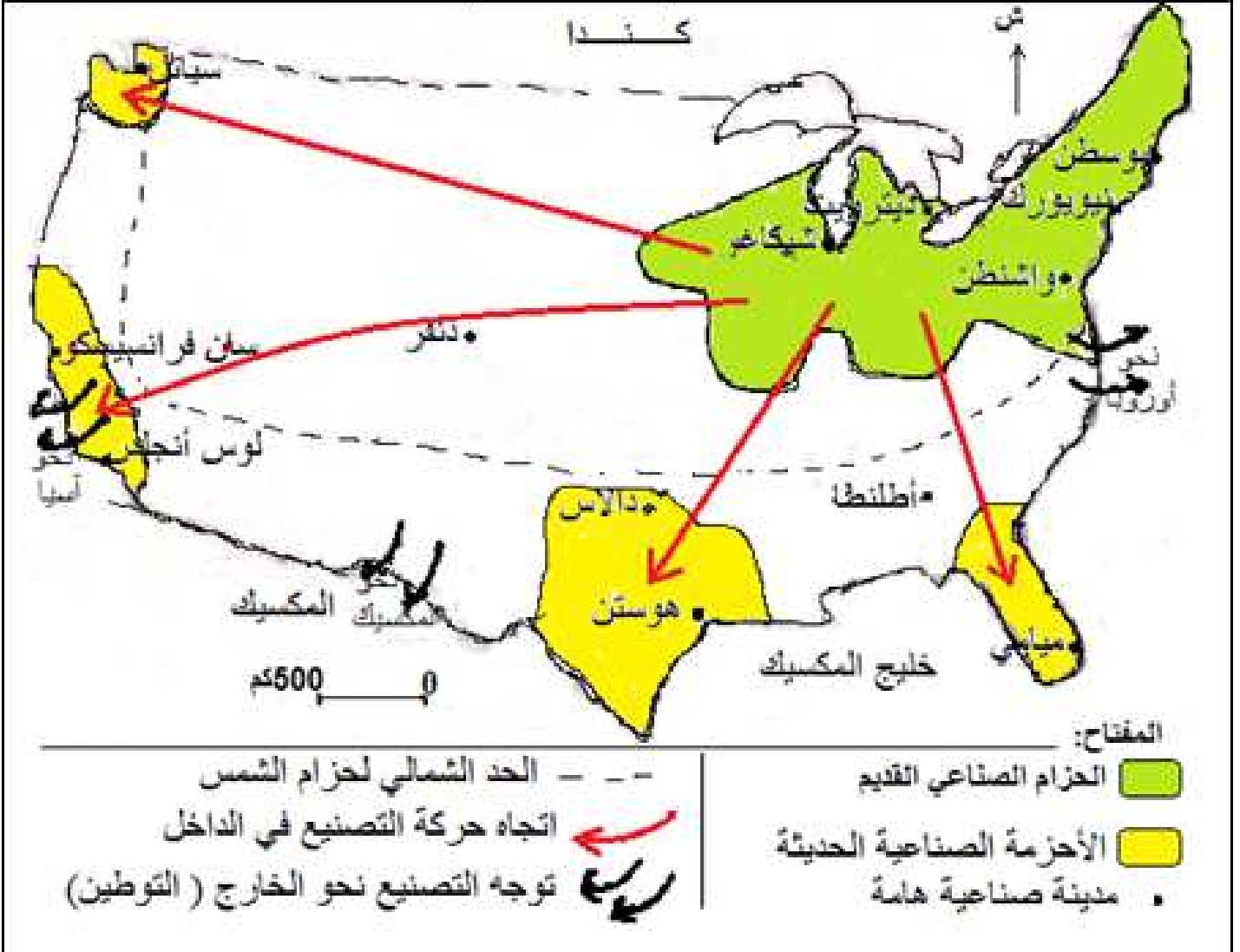
إصلاح الأسئلة الموضوعية

إصلاح المثال الأول

القطرية هي مؤسسات كبرى متعددة الأنشطة لها فروع كثيرة في الخارج للاستفادة من ضعف الأجور والضغط على تكاليف الإنتاج والاستفادة من أهمية السوق الاستهلاكية.

إصلاح المثال الثاني

المجال الصناعي الأمريكي وتحولاته



إصلاح الأسئلة التأليفية

إصلاح المثال الثالث

المبادلات التجارية الأمريكية سنة 2012

1480	قيمة الصادرات بالمليار دولار
159	منها الفلاحية
2266	قيمة الواردات بالمليار دولار
104	منها الفلاحية
- 786	الميزان التجاري العام (عاجز/ فائض)
55	الميزان الفلاحي (عاجز/ فائض)

المصدر: ملامح العالم الاقتصادية لسنتي 2014/2013

1. التمرين الأول :

هذه الوثيقة على شكل جدول ثابت تتعلق بموضوعه بالميزان التجاري الأمريكي سنة 2012 وقد وردت معطياته في ملامح العالم الاقتصادية لسنتي 2013 و 2014.

2. التمرين الثاني: (أنظر الجدول)

3. التمرين الثالث:

تتميز المبادلات الأمريكية بضخامة حجمها الذي تحتل به المرتبة العالمية الأولى كما تتميز بأهمية صادراتها من التقنيات العالية التي بلغت قيمتها 145.5 مليار دولار سنة 2012. إلا أن الميزان التجاري عاجز وقيمة عجزه ضخمة فقد بلغت سنة 2012 786 مليار \$ وإلى جانب ما تصدره من منتوجات إلى العالم توفر الولايات المتحدة الأمريكية خدمات عديدة كالنقل والاتصال والإعلام والترفيه والإطعام وغيرها وتحقق بفضلها أرباحا طائلة تمكنها من تغطية جزء هام من عجز ميزانها التجاري وبذلك يظهر التكامل بين العديد من الخدمات التي توفرها الولايات المتحدة الأمريكية للعالم.

إصلاح المثال الخامس:

1. التمرين الأول:

هذه الوثيقة على شكل جدول ثابت تتعلق بموضوعه بمكانة الولايات المتحدة الأمريكية في العالم سنة 2012 من خلال مقارنة عدد سكانها وناتجها الداخلي الخام بكل من الصين والهند والإتحاد الأوروبي. وقد أخذت معطيات هذا الجدول من ملامح العالم الاقتصادية لسنتي 2013 و 2014.


مكانة الولايات المتحدة الأمريكية في العالم سنة 2012

القوة البشرية والاقتصادية	عدد سكانها بالمليون نسمة (ورببتها)	ناتجها الداخلي الخام بالمليار دولار (ورببتها)
الصين	(1) 1350	(3) 8250
الهند	(2) 1260	(4) 1946
الإتحاد الأوروبي	(3) 502	(2) 15700
الولايات المتحدة الأمريكية	(4) 314	(1) 19198

المصدر: ملامح العالم الاقتصادية لسنتي 2014/2013

2. التمرين الثاني:

4/



3. التمرين الثالث:

4/

تظهر مكانة الولايات المتحدة الأمريكية المتميزة على المستوى العالمي فهي تحتل المرتبة العالمية الرابعة على مستوى عدد السكان بحوالي 5 % من مجموع سكان العالم لكن ناتجها الداخلي الخام تجاوز سنة 2012 ضعف ما توفره الصين التي سكانها حوالي 20 % من مجموع سكان العالم. وبذلك نستنتج قوة الاقتصاد الأمريكي الذي يتميز بتطور كل قطاعاته واعتمادها على التقنيات العالية.