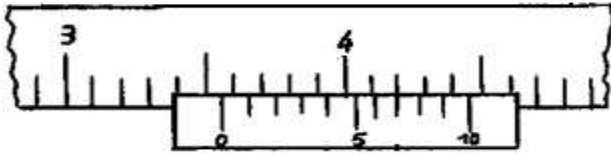
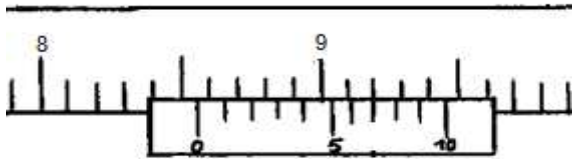
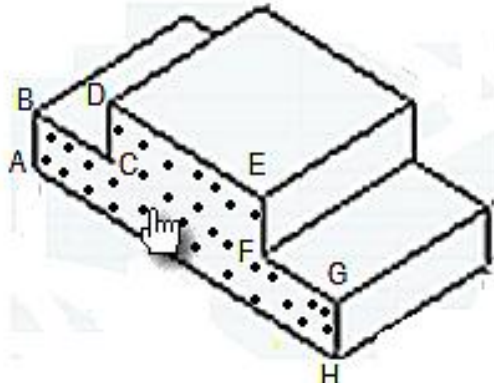
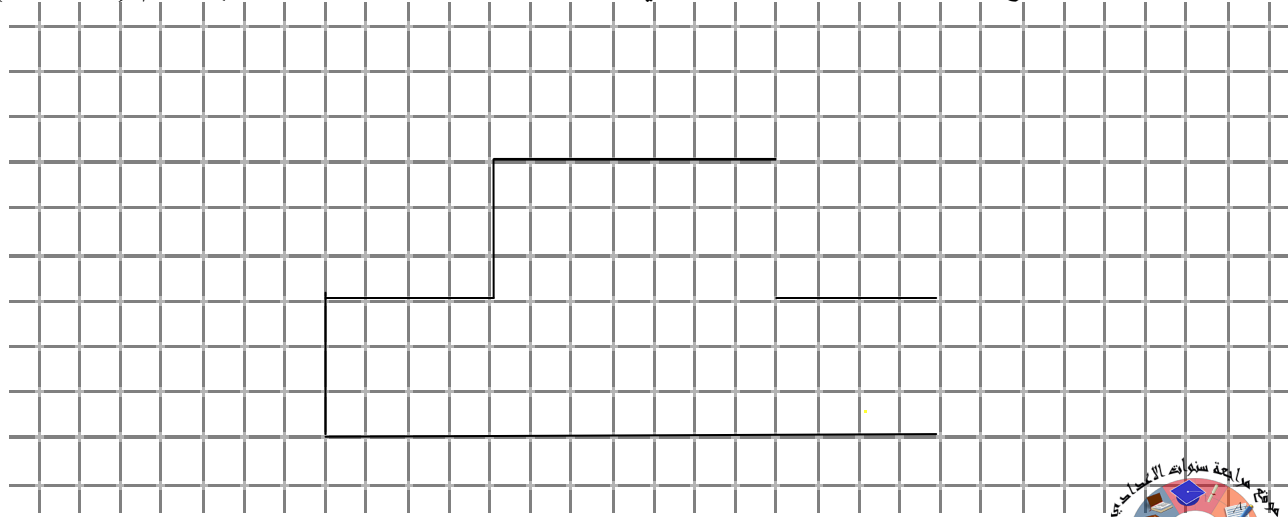
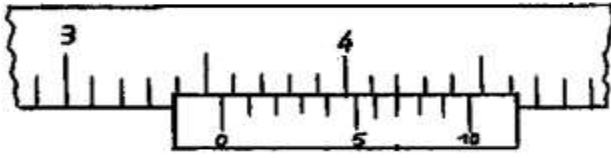
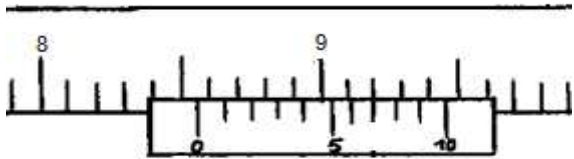
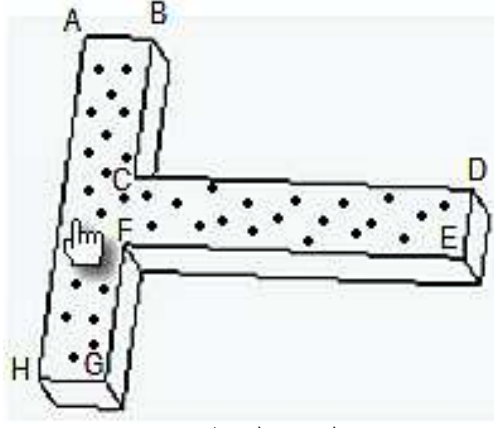



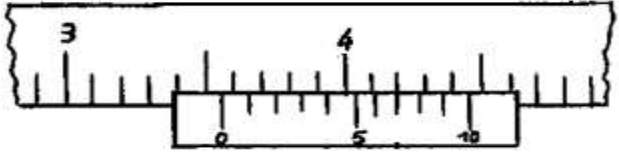
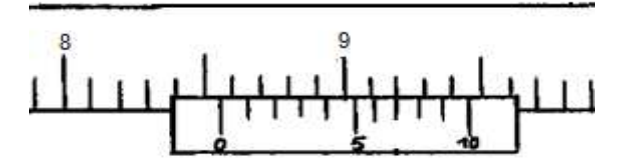
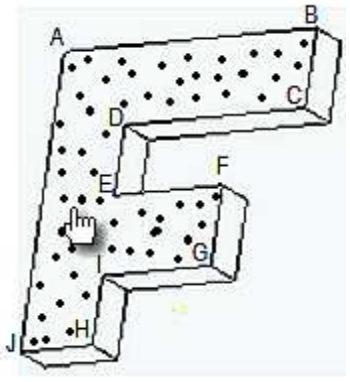

الاسم:..... اللقب:..... الرقم:.....القسم:7 أ.....	اختبار كتابي في مادة التربية التكنولوجية التوقيت: 30 دقيقة أفريل 2012	المدرسة الإعدادية محمود المسعدي سببية الإعداد: اساتذة التربية التكنولوجية
العدد: 20/.....		

** الجزء الأول " استعمال القدم الزالقي " :		
03	 صم مم صم	1 - لوّن المسطرة فقط بقلم تلوين. 2 - إستخرج البعد المناسب في الوضعية التالية مستعملا وحدتان (مم/صم)
03	 صم مم صم	1 - لوّن المسطرة فقط بقلم تلوين. 2 - إستخرج البعد المناسب في الوضعية التالية مستعملا وحدتان (مم/صم)
02	 الرسم المنظوري	الجزء الثاني: رسم ثلاثي الابعاد لـ " منصّة الفانزين " : 1- لون الوجه العلوي على الرسم المنظوري. 2- ماهو إتجاه النظر المستعمل في هذا الرسم؟ 3- أعد إنجاز رسم ثلاثي الابعاد على الشبكة حسب المعطيات التالية: * وجه أمامي ABCDEFGH * يساري علوي (↖) * 45° * K= 0.5 * السلم 1:1
04	ملاحظة: ** لقد وقع إنجاز جزء من الوجه الامامي. ** طول الخطوط المائلة يساوي 20مم (4 مربعات)	
04		
02	نظافة الرسم و الورقة	

الاسم:..... اللقب:..... الرقم:.....القسم:7 أ.....	اختبار كتابي في مادة التربية التكنولوجية التوقيت: 30 دقيقة أفريل 2012	المدرسة الإعدادية محمود المسعدي سببية الإعداد: اساتذة التربية التكنولوجية
العدد: 20/.....		

** الجزء الأول " استعمال القدم الزالقي " :		
03		3 - لون المسطرة فقط بقلم تلوين. 4 - إستخرج البعد المناسب في الوضعية التالية مستعملا وحدتان (مم/صم)
03		3 - لون المسطرة فقط بقلم تلوين. 4 - إستخرج البعد المناسب في الوضعية التالية مستعملا وحدتان (مم/صم)
02		الجزء الثاني: رسم ثلاثي الابعاد لمسطرة : 1- لون الوجه اليميني على الرسم المنظوري. 2- ماهو إتجاه النظر المستعمل في هذا الرسم؟ 3- أعد إنجاز رسم ثلاثي الابعاد على الشبكة حسب المعطيات التالية: * وجه أمامي ABCDEFGH * يساري علوي (↖) * 45° * K= 0.5 * السلم 1:1
04	ملاحظة: ** لقد تم إنجاز جزء من الوجه الامامي. ** طول الخطوط المائلة يساوي 20 مم (4 مربعات)	
04		
02	نظافة الرسم و الورقة	

الاسم:..... اللقب:..... الرقم:.....القسم:7 أ.....	اختبار كتابي في مادة التربية التكنولوجية التوقيت: 30 دقيقة أفريل 2012	المدرسة الإعدادية محمود المسعدي سببية الإعداد: اساتذة التربية التكنولوجية
العدد: 20/.....		

03	<p align="center">** الجزء الأول " استعمال القدم الزالقي " :</p>  <p align="center">..... مم صم</p>	<p>5 - لون المسطرة فقط بقلم تلوين. 6 - إستخرج البعد المناسب في الوضعية التالية مستعملا وحدتان (مم/صم)</p>
03	 <p align="center">..... مم صم</p>	<p>5 - لون المسطرة فقط بقلم تلوين. 6 - إستخرج البعد المناسب في الوضعية التالية مستعملا وحدتان (مم/صم)</p>
02 02	 <p align="center">الرسم المنظوري</p>	<p>الجزء الثاني: رسم ثلاثي الابعاد لقطعة مصنعة :</p> <p>1- لون الوجه اليميني على الرسم المنظوري. 2- ماهو إتجاه النظر المستعمل في هذا الرسم؟ 3- أعد إنجاز رسم ثلاثي الابعاد على الشبكة حسب المعطيات التالية: * وجه أمامي ABCDEFGHIJ * يساري علوي (↖) * 45° * K= 0.5 * السلم 1:1</p>
04 04 02	<p>ملاحظة: ** لقد وقع إنجاز جزء من الوجه الامامي. ** طول الخطوط المائلة يساوي 20مم (4 مربعات)</p>  <p align="right">نظافة الرسم و الورقة</p>	

⤴ b) Le pied à coulisse

